

**Zadania egzaminacyjne – GEOGRAFIA – wersja B**

**kod ucznia.....**

**Punkty...../ 20**

**Zadanie 1 (2 pkt)**

Wymienione strefy krajobrazowe uszereguj według położenia w kolejności od bieguna północnego do równika. Do tabeli poniżej wpisz cyfry odpowiadające poszczególnym strefom we właściwej kolejności.

- |                            |                    |
|----------------------------|--------------------|
| 1. Sawanna                 | 5. Stepy           |
| 2. Wilgotne lasy równikowe | 6. Tajga           |
| 3. Tundra                  | 7. Pustynia lodowa |
| 4. Pustynie gorące         |                    |

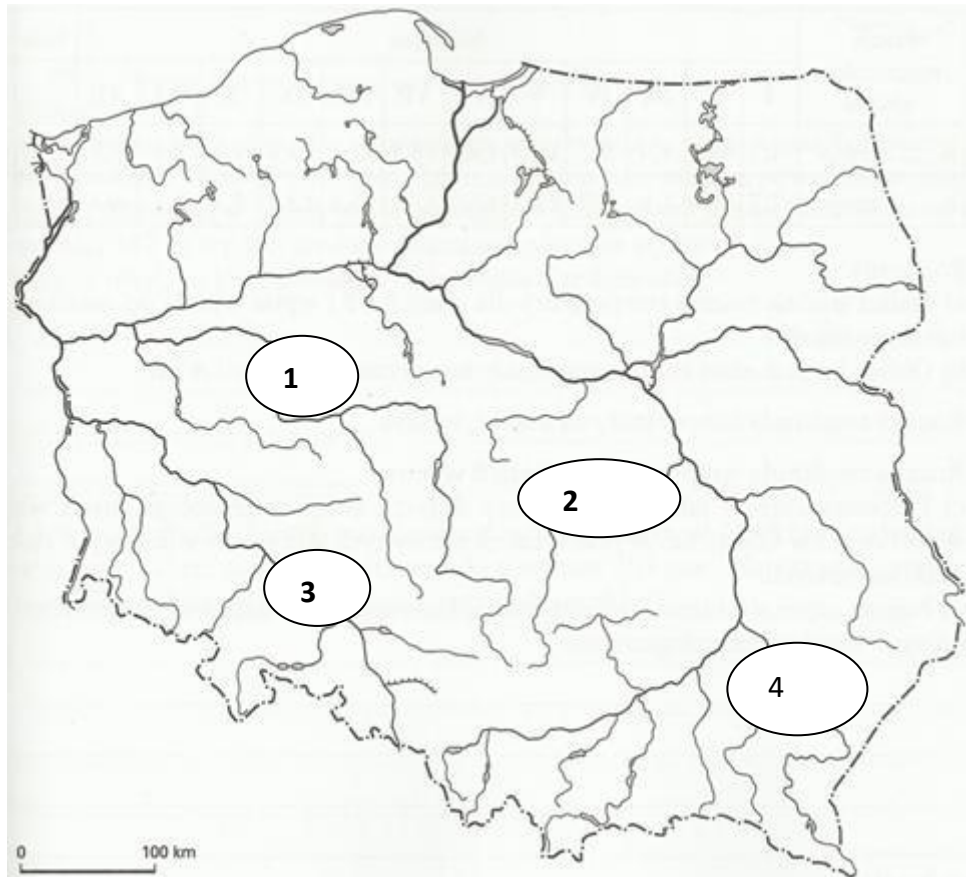
Biegun Północny						Równik

**Zadanie 2. (1 pkt)**

Wybierz i zaznacz trzy cechy, które charakteryzują klimat lasu równikowego.

- A. niska temperatura powietrza przez cały rok
- B. małe (do 5°C) roczne wahania średniej temperatury miesięcznej
- C. wysoka temperatura powietrza przez cały rok
- D. duże (ponad 20°C) roczne wahania średniej temperatury miesięcznej
- E. wysokie roczne sumy opadów
- F. opady sezonowe – pora deszczowa i sucha
- G. niskie sumy opadów występują we wszystkich klimatycznych porach roku.

**Zadanie 3. (1 pkt)**



**Podpisz nazwy rzek. Wybierz spośród podanych poniżej:**

1.....2.....  
3.....4.....

Wisła, Odra, Noteć, Bzura, San, Biebrza, Bug, Warta, Nogat, Pilica

**Zadanie 4. (1 pkt)**

**Podkreśl wiersz, w którym zapisano tylko te nazwy miejscowości, w których nie znajdują się obiekty wpisane na listę Światowego Dziedzictwa UNESCO.**

- A. Gdańsk, Malbork, Szczecin, Toruń.
- B. Jawor, Lipnica Murowana, Wrocław, Zamość.
- C. Biskupin, Gniezno, Kraków, Wieliczka.
- D. Biskupin, Częstochowa, Kazimierz Dolny, Poznań.

**Zadanie 5 (2 pkt)**

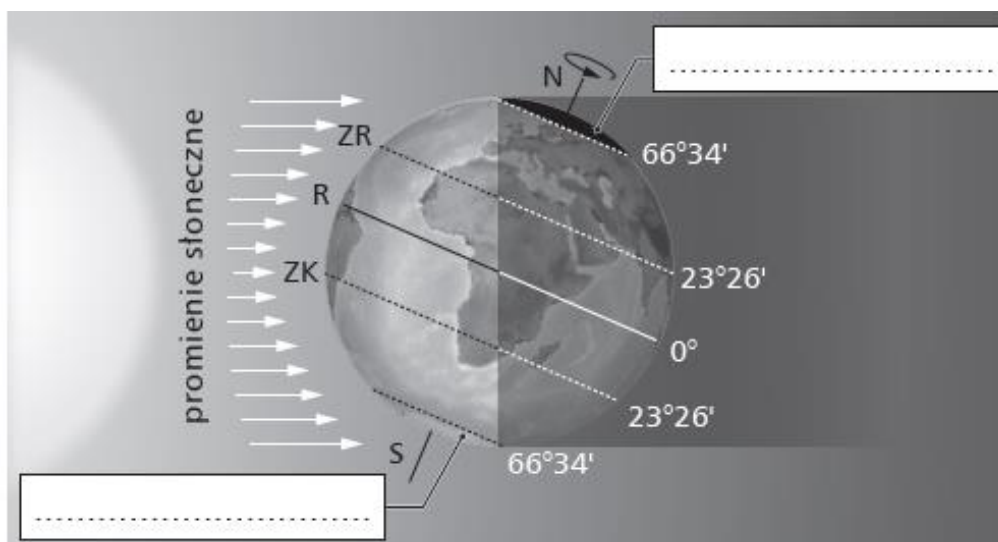
W tabeli podano konsekwencje ruchów Ziemi – obrotowego oraz obiegowego.

Przyporządkuj każdą z podanych konsekwencji do ruchu Ziemi. Wpisz X we właściwe komórki tabeli.

Konsekwencje ruchu Ziemi	Ruch Ziemi	
	obrotowy	obiegowy
Zmiana oświetlenia Ziemi w ciągu roku		
Zmiana miejsc wschodu i zachodu Słońca		
Występowanie dnia i nocy oraz związana z tym rachuba czasu		
Zmiana wysokości górowania Słońca		

**Zadanie 6 (1 pkt)**

Na rysunku przedstawiono oświetlenie Ziemi w wybranym dniu.



**Wykonaj polecenie:**

**Wpisz w odpowiednie ramki określenia: dzień polarny, noc polarna.**

**Zadanie 7 (1 pkt)**

Wymień negatywne skutki starzenia się społeczeństwa.

.....

.....

.....

.....

**Zadanie 8 (2 pkt)**

Oceń, czy poniższe informacje są prawdziwe. Zaznacz P, jeśli informacja jest prawdziwa, lub F – jeśli jest fałszywa.

Największym jeziorem w Polsce jest Jezioro Śniardwy	<b>P</b>	<b>F</b>
Silę trzęsień Ziemi określa się w skali Richtera	<b>P</b>	<b>F</b>
Z Azji pochodzi około 90% światowej produkcji żyta	<b>P</b>	<b>F</b>
Na Bliskim Wschodzie znajduje się około 50% światowych zasobów węgla kamiennego	<b>P</b>	<b>F</b>

**Zadanie 9 (2 pkt)**

Zaznacz w każdym wierszu tabeli literę oznaczającą krainę geograficzną, której dotyczy podana informacja.

**A. Karkonosze**

**B. Pojezierze Mazurskie**

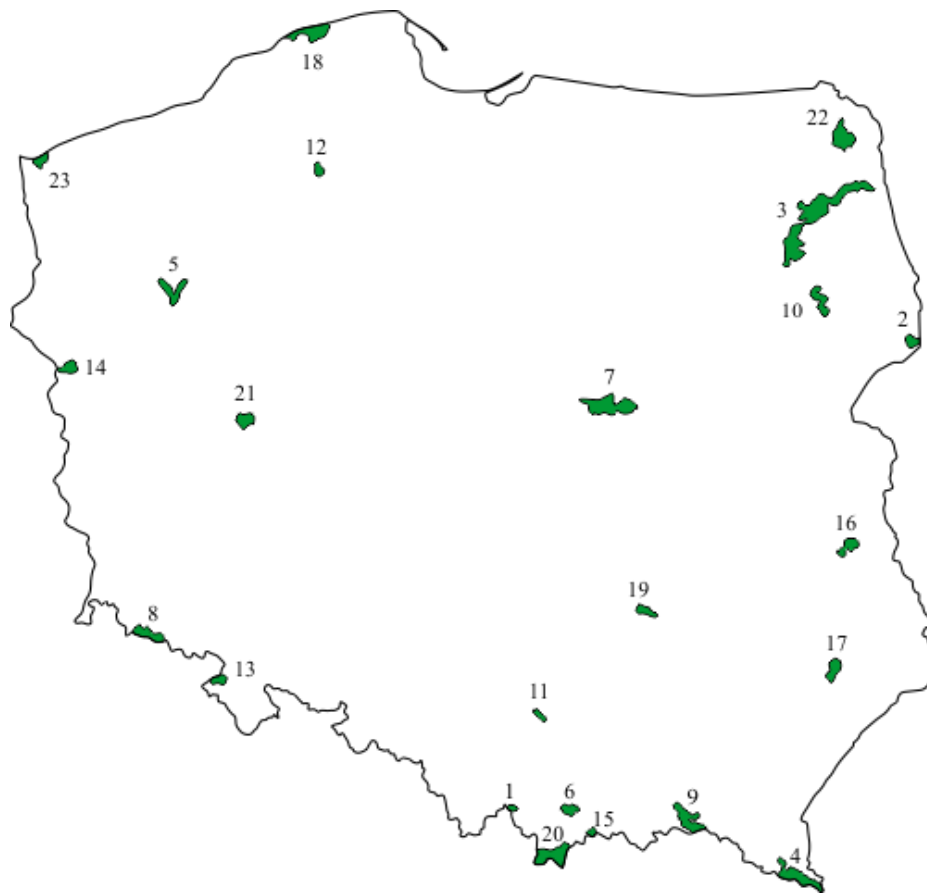
**C. Żuławy Wiślane**

**D. Wyżyna Lubelska**

Lp.	Informacja	Kraina geograficzna			
		A	B	C	D
1	Kraina geograficzna, na której obszarze występują liczne jeziora i wzgórza morenowe	A	B	C	D
2	Kraina jest lekko pofałdowana, niemal bezleśna, w zachodniej części pokryta lessem, pocięta gęstą siecią wąwozów	A	B	C	D
3	Na obszarze tej krainy są liczne formy polodowcowe, m.in. doliny U-kształtne i kotły lodowcowe	A	B	C	D
4	Na obszarze tej krainy znajduje się najniższe położone miejsce w Polsce (1,8 m p.p.m.) i żyzne mady	A	B	C	D

**Zadanie 10 (2 pkt)**

**Mapa przedstawia parki narodowe w Polsce**



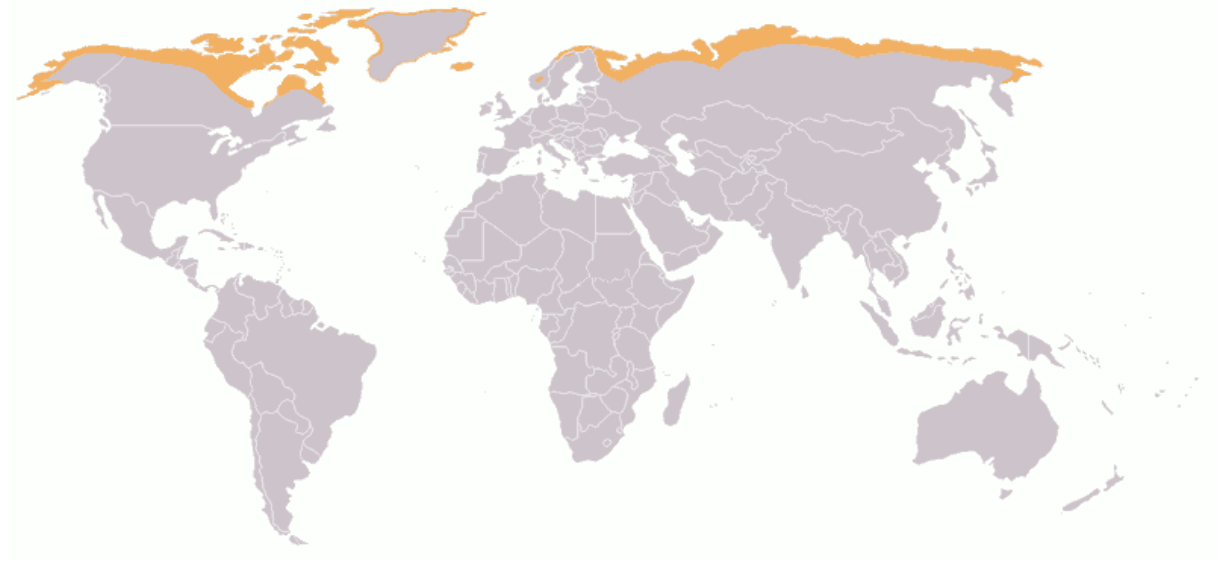
**Podaj nazwy parków narodowych oznaczonych numerami. Wybierz spośród podanych poniżej.**

<b>Numer parku</b>	<b>Nazwa parku</b>
<b>7</b>	
<b>13</b>	
<b>18</b>	
<b>19</b>	
<b>20</b>	

- |                               |                                |
|-------------------------------|--------------------------------|
| 1. Białowiecki Park Narodowy  | 6. Park Narodowy Gór Stołowych |
| 2. Bieszczadzki Park Narodowy | 7. Słowiński Park Narodowy     |
| 3. Kampinoski Park Narodowy   | 8. Świętokrzyski Park Narodowy |
| 4. Karkonoski Park Narodowy   | 9. Tatrzański Park Narodowy    |
| 5. Ojcowski Park Narodowy     | 10. Woliński Park Narodowy     |

**Zadanie 11 (1 pkt)**

**Na mapie przedstawiono występowanie pewnej formacji roślinnej.**



Źródło: <https://en.wikipedia.png>

**Dokończ zdanie – wybierz i zaznacz odpowiedź: A albo B oraz jedną z odpowiedzi: 1. albo 2.**

**Na mapie przedstawiono występowanie:**

A.	Tundry,	formacji roślinnej, dla której charakterystyczne są	1.	karłowate drzewa, np. brzoza, krzewinki, mchy i porosty.
B.	Tajgi,		2.	lasy iglaste z udziałem sosny, świerka, modrzewia z domieszką także brzozy, topoli.

**Zadanie 12 (2 pkt)**

**Mapa przedstawia rozkład opadów rocznych w Polsce.**



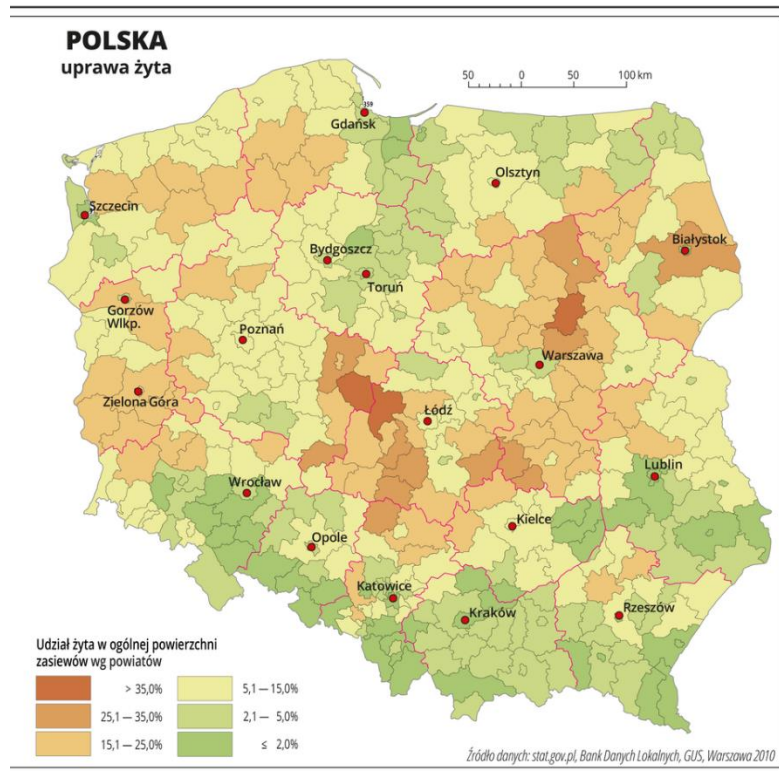
Źródło: <https://zpe.gov.pl/a/cechy-klimatu-polski/DnhQBg0ed>

**Na podstawie mapy oraz własnej wiedzy oceń prawdziwość informacji. Wybierz P, jeśli informacja jest prawdziwa, lub F, jeśli jest fałszywa.**

1.	Najwyższe roczne sumy opadów występują na obszarach nizinnych	<b>P</b>	<b>F</b>
2.	W Karkonoszach roczna sumy opadów atmosferycznych jest mniejsza niż na Nizinie Mazowieckiej	<b>P</b>	<b>F</b>
3.	W Tatrach opady roczne przekraczają 1400 mm	<b>P</b>	<b>F</b>

**Zadanie 13 (1 pkt)**

Na mapie przedstawiono rozmieszczenie upraw żyta.



Źródło: <https://zpe.gov.pl/a/rozmieszczenie-upraw-na-terenie-polski/DtSQtj4HO>

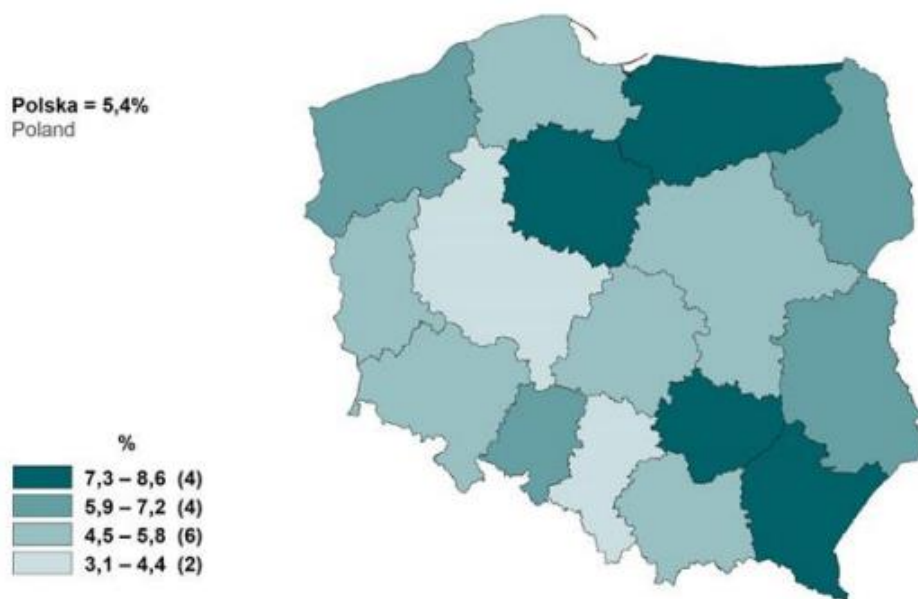
Na podstawie mapy oraz własnej wiedzy oceń prawdziwość informacji. Wybierz P, jeśli informacja jest prawdziwa, lub F, jeśli jest fałszywa.

1	Żyto ma niskie wymagania glebowe	<b>P</b>	<b>F</b>
2	Wyżyna Lubelska jest głównym rejonem upraw żyta w Polsce	<b>P</b>	<b>F</b>
3	Jednym z głównych rejonów upraw żyta jest Nizina Mazowiecka	<b>P</b>	<b>F</b>



**Zadanie 14 (1 pkt)**

**Mapa przedstawia stopę bezrobocia (stosunek liczby osób bezrobotnych do liczby ludności aktywnej zawodowo) – stan w końcu grudnia 2021 roku.**



Źródło: Bezrobocie rejestrowane. I-IV kwartał 2021 roku, GUS, Warszawa 2022

- 1. Wpisz do tabeli nazwy województw, w których stopa bezrobocia jest najniższa (3,1-4,4%)**
- 2. Wpisz numery tych dwóch województw na mapie.**

	województwo
<b>1</b>	
<b>2</b>	