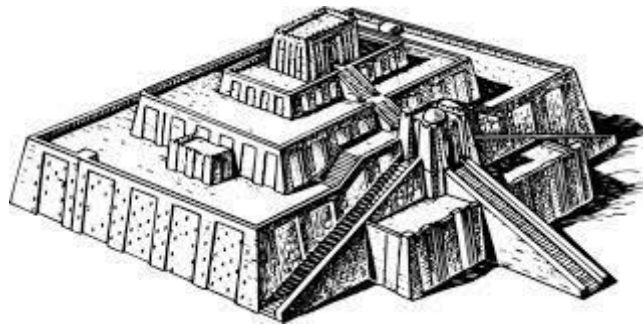


**Zadania egzaminacyjne – HISTORIA – wersja B**

kod ucznia.....

Punkty...../ 20

**Zadanie 1. (1 pkt)****Podaj nazwę cywilizacji, której zabytek przedstawiony jest na ilustracji.**

.....

**Zadanie 2. (2 pkt)****Wskaż właściwy szereg chronologiczny epok historycznych.**

- a) starożytność - nowożytność - średniowiecze
- b) starożytność - średniowiecze - nowożytność
- c) nowożytność - średniowiecze – starożytność

**Podaj nazwę tej epoki, na początku której wynaleziono pismo:**

.....

**Zadanie 3. (1 pkt)**

Napisz, w którym wieku miało miejsce podane wydarzenie używając powszechnej w historii formy zapisu.

1025 - .....

**Zadanie 4. (1 pkt)**

Wyjaśnij znaczenie słowa: monarchia.

.....  
.....  
.....

**Zadanie 5. (2 pkt)**

Zaznacz właściwą odpowiedź.

Państwo Polskie:		
1) powstało w 966 roku	w wyniku	a) podboju sąsiednich plemion przez Piastów
2) powstało w połowie X wieku		b) chrztu

**Zadanie 6. (1 pkt)**

Zapoznaj się z tekstem źródłowym i zaznacz właściwą odpowiedź:

*„Jak zaś doszło do wypędzenia króla Bolesława, długo byłoby o tym mówić, tyle wszakże można powiedzieć, że sam będąc pomazańcem Bożym, nie powinien był pomazańca za żaden grzech karać cieleśnie. Wiele mu to bowiem zaszkodziło, gdy przeciw grzechowi grzech zastosował i za zdradę wydał biskupa na obcięcie członków. My zaś ani nie usprawiedliwiamy biskupa – zdrajcy, ani nie zalecamy króla, który tak szpetnie dochodził swoich praw, lecz pozostawmy te sprawy, a opowiedzmy, jak przyjęto go na Węgrzech.”*

Wydarzenie opisane w źródle dotyczy:


1. koronacji królewskiej Bolesława Chrobrego
2. zjazdu w Gnieźnie
3. Sporu biskupa Stanisława z Bolesławem Śmiałym

**Zadanie 7. (1 pkt)**

**Zaznacz zdanie fałszywe:**

1. Krzyżacy byli zakonem niemieckim
2. W wyniku I pokoju toruńskiego Polska odzyskała pomorze Gdańskie
3. W bitwie pod Grunwaldem uczestniczyli Litwini

**Zadanie 8. (1 pkt)**



**Przedstawiona ilustracja ukazuje architekturę:**

a) klasycyzmu

b) baroku

c) gotyką

**Podaj jedną cechę wybranego stylu:**

.....  
.....

**Zadanie 9. (2 pkt)**

**Wyjaśnij pojęcia:**

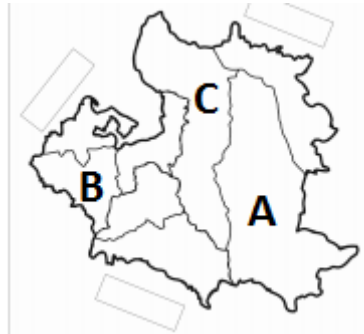
liberum veto –

.....  
.....

rokosz –

.....  
.....

**Zadanie 10. (1 pkt)**



**Uzupełnij tekst:**

Ziemie oznaczone literą **B** zostały zabrane przez ..... w roku .....

**Zadanie 11. (1 pkt)**

**Zaznacz właściwy ciąg chronologiczny:**

A - odzyskanie niepodległości - powstanie styczniowe - wojna polsko-bolszewicka

B - powstanie styczniowe - odzyskanie niepodległości - wojna polsko-bolszewicka

C - odzyskanie niepodległości - wojna polsko-bolszewicka - powstanie styczniowe

**Zadanie 12. (1 pkt)**

**Do sąsiadów II Rzeczypospolitej nie należała:**

- a) Rumunia
- b) II Rzesza
- c) Czechosłowacja

**Zadanie 13. (1pkt)**

**Podaj miejsce przełomowej bitwy na froncie wschodnim stoczony pod koniec 1941 roku.**

.....

**Zadanie 14. (1 pkt)**

**Podaj nazwisko dowódcy polskiej Samodzielnej Brygady Spadochronowej.**

.....

**Zadanie 15. (1 pkt)**

**Uzupełnij zdanie:**

Do protestów robotników w grudniu 1970 roku, których przyczyną wystąpień była podwyżka cen, doszło w ..... (podaj nazwę miejscowości)

**Zadanie 16. (1 pkt)**

**Na fotografii przedstawiony jest:**



a) Lech Wałęsa

b) Władysław Gomułka

c) Aleksander Kwaśniewski

**Zadanie 17. (1 pkt)**

**Uzupełnij zdanie:**

W 1999 roku Polska wstąpiła do .....